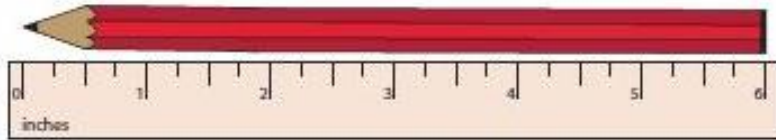
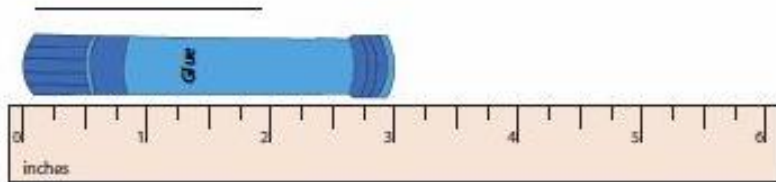
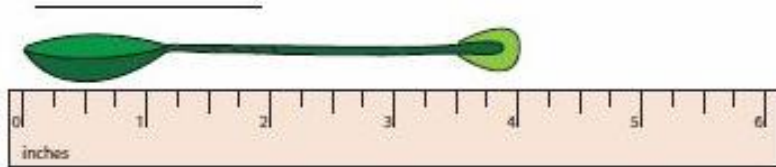
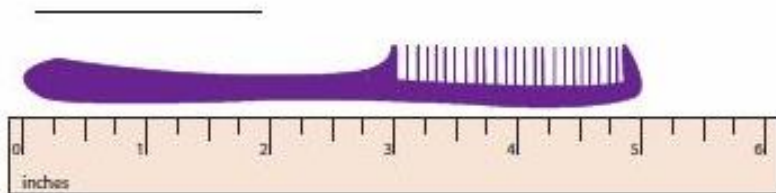


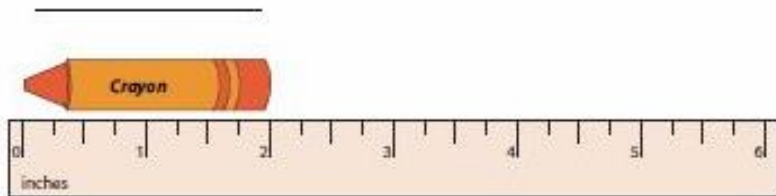
Escriu quant mesuren
tots aquests objectes.











Ara tindràs que mesurar els següents objectes que trobaràs a casa.

- La teva sabata mesura _____cm.
- La sabata de la mare o el pare mesura _____cm.
- Una forquilla mesura _____cm.
- La teva ma oberta mesura _____cm.
- Una joguina teva mesura _____cm.