

SOLUCIONARI:TASCA 4

Pàgina 114

1. Mesura aquestes línies amb el regle i expressa'n la longitud, utilitzant la unitat indicada:

Pàgina 115

4. Escriu quina és la mesura més adequada en cada cas:

<input type="radio"/> 10 mm <input checked="" type="radio"/> 10 cm <input type="radio"/> 10 dm		<input type="radio"/> 2 cm <input type="radio"/> 2 dm <input checked="" type="radio"/> 2 mm	
<input checked="" type="radio"/> 6 mm <input type="radio"/> 6 cm <input type="radio"/> 6 dm		<input checked="" type="radio"/> 4 dm <input type="radio"/> 4 mm <input type="radio"/> 4 cm	

5. Completa les igualtats següents:

4 m = 40 dm	20 dm = 2 m	16 m = 1.600 cm	8 dm = 80 cm
300 mm = 30 cm	80 cm = 8 dm	3 cm = 30 mm	450 cm = 45 dm
9 cm = 90 mm	25 m = 250 dm	500 cm = 5 m	42 dm = 420 cm

9. Un llibre té un gruix de 12 mm. Quants centímetres fa una pila formada per 15 d'aquests llibres?

La pila de llibres fa 18 cm.

Pàgina 116

11. Completa:

6 km = 60 hm = 600 dam = 6.000 m	9.000 m = 900 dam = 90 hm = 9 km
8 km = 80 hm = 800 dam = 8.000 m	4.000 m = 400 dam = 40 hm = 4 km
15 km = 150 hm = 1.500 dam = 15.000 m	12.000 m = 1.200 dam = 120 hm = 12 km

13. Escriu, en metres, les dimensions del camp de futbol i de la pista de bàsquet:



camp de futbol

7 dam = m

1 hm = m



pista de bàsquet

2 dam = m

4 dam = m



pàgina 117

14. Fixa't en l'exemple i completa:

20 m = 2 dam

700 m = 7 hm

5.000 m = 5 km

30 m = dam

200 m = hm

7.000 m = km

40 m = dam

500 m = hm

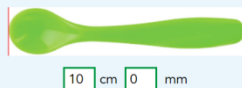
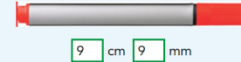
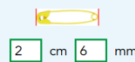
9.000 m = km

16. Un circuit de curses fa 4.500 m. En una cursa de Fórmula 1, els cotxes han fet 60 voltes al circuit. Quants quilòmetres han recorregut els cotxes?

Han recorregut km.

pàgina 118

22. Mesura amb el regle els objectes següents i completa les longituds:



23. Escriu quants metres són:

2 km + 5 hm = m

3 hm + 6 dam + 8 m = m

7 km + 8 hm = m



27. Selecciona el signe $<$, $>$ o $=$, segons el que hi correspon:

568 m 5 km 68 m

2.356 m 2 km 40 m

6 km 70 m 6.070 m

604 cm 6 m 40 cm

3 m 15 cm 315 cm

500 m 5 km 7m

28. Un grup d'amics ha fet una excursió de quatre dies. Fixa't en l'esquema. Quina distància han recorregut en total?

