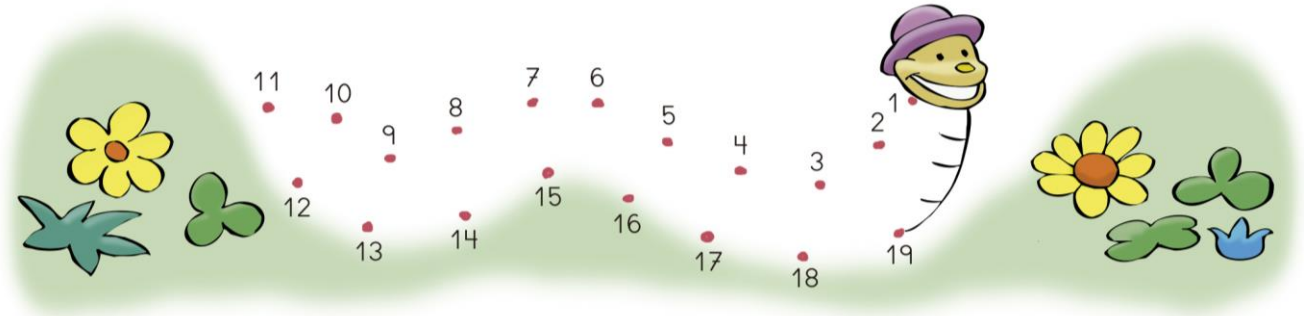


1. Uneix els punts en ordre.



2. Encercla el nombre més gran de cada parella.

7 9

12 3

13 17

4 1

10 5

10 15

0 2

5 3

3. Suma i resta.

$$\begin{array}{r} 6 \\ + 3 \\ \hline \end{array}$$


$$\begin{array}{r} 3 \\ + 4 \\ \hline \end{array}$$

$$\begin{array}{r} 5 \\ + 3 \\ \hline \end{array}$$

$$\begin{array}{r} 9 \\ - 4 \\ \hline \end{array}$$


$$\begin{array}{r} 7 \\ - 3 \\ \hline \end{array}$$

4. Quants n'hi ha?



..... desena i
..... unitats

D	U



..... desena i
..... unitats

D	U